



個別指導塾フォルテ

×



さんすう

1ねんせい

だい12せつ

6～11のまとめテスト

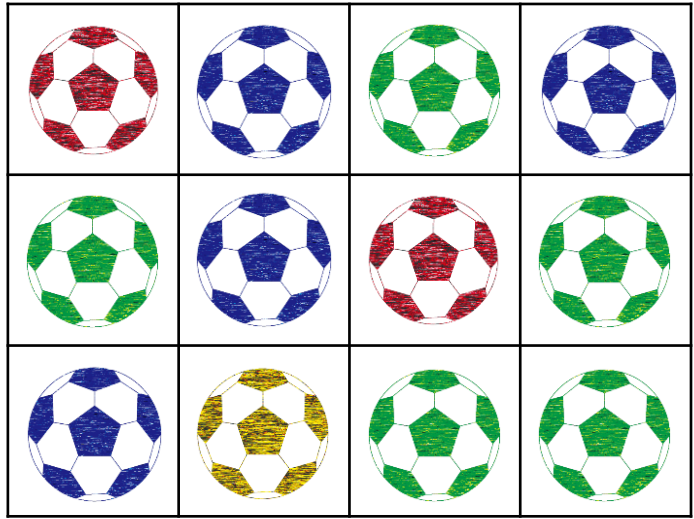


めざせ100てん!

したにある サッカーボールの イラストをみて つぎの もんだいを といてみよう。

上

左



右

下

①赤いボールは ぜんぶで こ あります (10てん)

②黄色いボールは 右から ばんめ 上から ばんめ にあります (10てん)

③赤いボールと 青いボールは あわせていくつ ありますか (10てん)

しき

こたえ

④緑色のボールは 赤いボールより いくつおおいですか (10てん)

しき

こたえ

③+④のこたえ




③と④のこたえを あわせると いくつになるかな。 こうはんでつかうから書いておこう！

ゼルビーは 小学校の ふくしゅうを するために ゼルじゅくを はじめました。

ゼルビーは ゼルビアえんぴつを 3本 もっています。

これだけでは 足りないと思い 4本 かいたしました。



①このとき ゼルビーは ゼルビアえんぴつを 何本 もっていますか。 (10てん)

しき

こたえ

そのあと、ゼルビーは ゼるじゅくを いっしょうけんめい とりくんだところ

ゼルビアえんぴつが 5本 なくなりました。



②のこたえは、
あとでつかうよ!

②このとき ゼルビーは ゼルビアえんぴつを 何本 もっていますか。 (10てん)

しき

こたえ

したにある A~Iの 9個の □の中には、1~9の数字が 1つずつ 入ります。

[A + B = C]、[B - E = H]、[G - H = I] は、式になっています。

どの数字が 入るか 考えてみよう！

(20てん)

$$\boxed{A} + \boxed{B} = \boxed{C}$$

|

$$\boxed{D} \quad \boxed{E} \quad \boxed{F}$$

||

$$\boxed{G} - \boxed{H} = \boxed{I}$$

Fに入る数字は、「ウォーミングアップ」の
しょうがくせいゼルビーが 教えてくれています。



③と④のこたえ
をあわせる
と...

Dに入る数字は、「ぜんはん」の
しょうがくせいゼルビーが 教えてくれています。



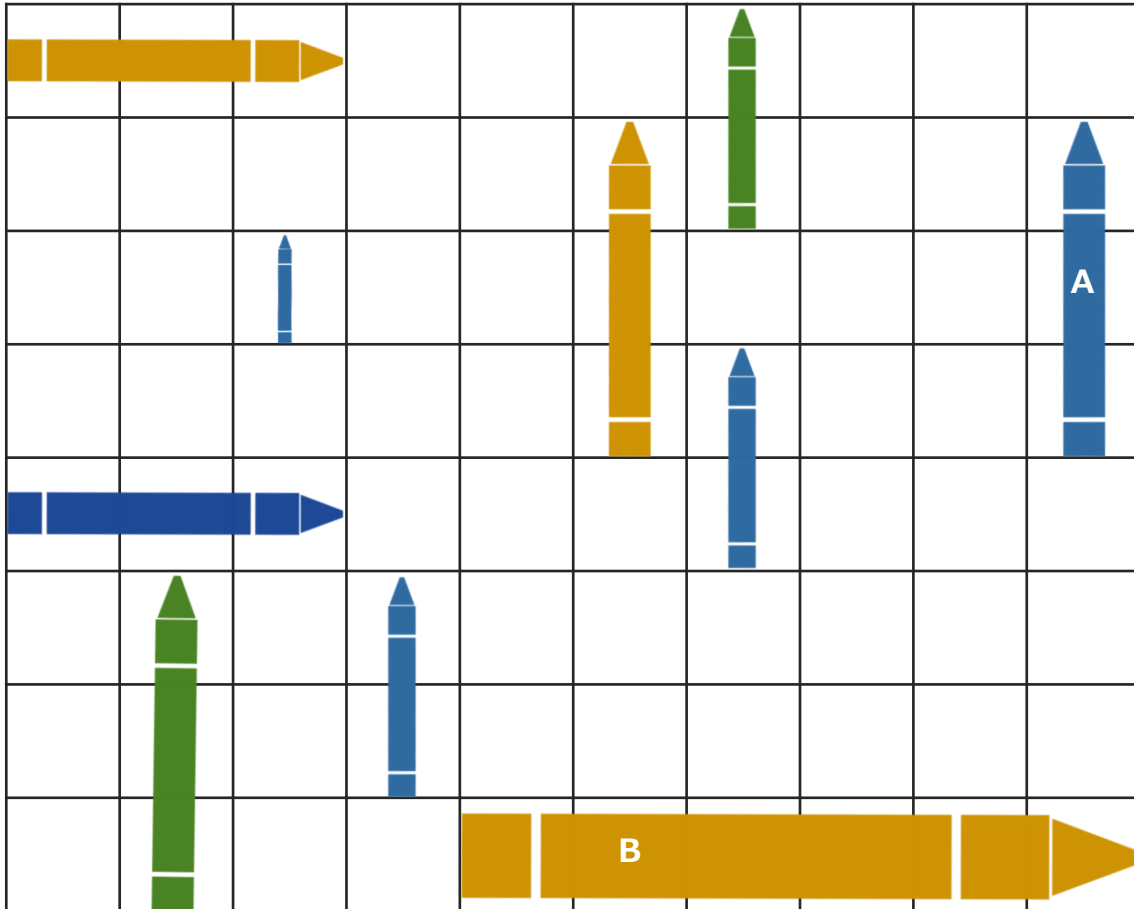
②のこたえだね

Bにはいる数字は、
ドレシエビッチせんしゅの背番号だよ！



Cにはいる数字は、
せんとうせんしゅの 背番号だよ！





①きいろ、あお、みどりのペンが、それぞれ なん本 あるでしょうか。(10てん)

きいろ

あお

みどり

②AとBのペンはどちらが、なんマス分 ながいでしょうか。しきをかいて、こたえをもとめましょう。(10てん)

しき

こたえ

まるつけを して すべてのごうけい てんすうを かこう!
てん



個別指導塾フォルテ

×



さんすう

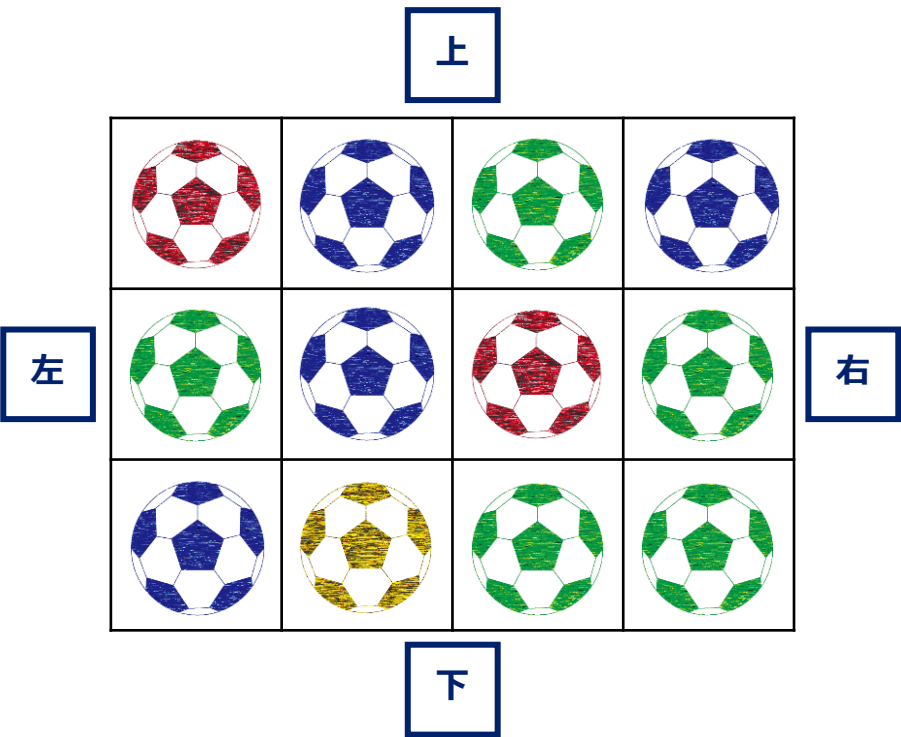
こたえあわせ

1ねんせい

だい12せつ

6～11のまとめテスト

したにある サッカーボールの イラストをみて つぎの もんだいを といてみよう。



①赤いボールは ぜんぶで **2** こ あります

②黄色いボールは 右から **3** ばんめ 上から

3 ばんめ にあります

③赤いボールと 青いボールは あわせていくつ ありますか

しき

$$2 + 4 = 6$$

こたえ

6

④緑色のボールは 赤いボールより いくつおおいですか

しき

$$5 - 2 = 3$$

こたえ

3

③+④のこたえ

9

③と④のこたえを あわせると
いくつになるかな。

こうはんでつかうから書いておこう！



ゼルビーは 小学校の ふくしゅうを するために ゼルじゅくを はじめました。

ゼルビーは ゼルビアえんぴつを 3本 もっています。

これだけでは 足りないと思い 4本 かいたしました。



①このとき ゼルビーは ゼルビアえんぴつを 何本 もっていますか。

しき

$$3+4=7$$

こたえ

7本

そのあと、ゼルビーは ゼるじゅくを いっしょうけんめい とりくんだところ

ゼルビアえんぴつが 5本 なくなりました。



②のこたえは、
あとでつかうよ！

②このとき ゼルビーは ゼルビアえんぴつを 何本 もっていますか。

しき

$$7-5=2$$

こたえ

2本

したにある A~Iの 9個の □の中には、1~9の数字が 1つずつ 入ります。

[A + B = C]、[B - E = H]、[G - H = I] は、式になっています。

どの数字が 入るか 考えてみよう！

(20てん)

$$\boxed{A} + \boxed{B} = \boxed{C}$$

|

$$\boxed{D} \quad \boxed{E} \quad \boxed{F}$$

||

$$\boxed{G} - \boxed{H} = \boxed{I}$$

Fに入る数字は、「ウォーミングアップ」の
しょうがくせいゼルビーが 教えてくれています。



③と④のこたえ
をあわせる
と...

Dに入る数字は、「ぜんはん」の
しょうがくせいゼルビーが 教えてくれています。



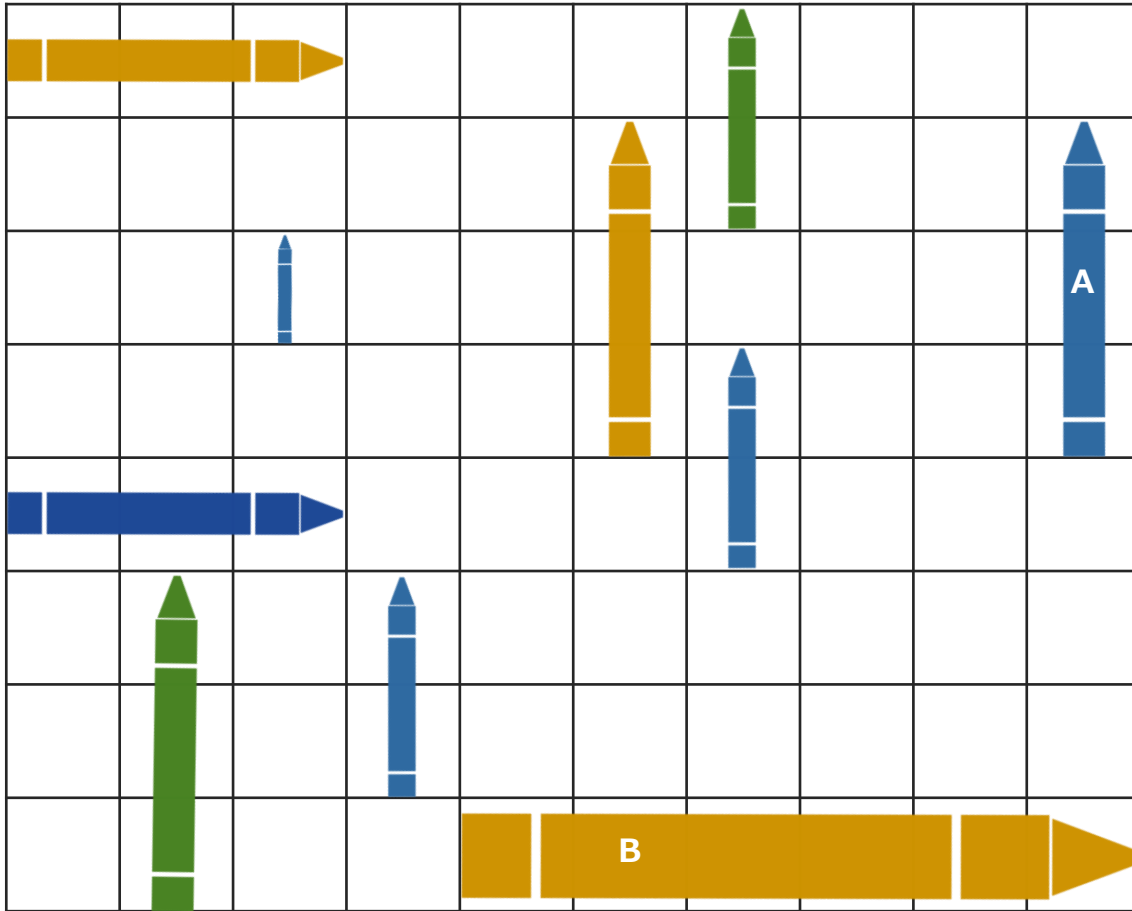
②のこたえだね

Bにはいる数字は、
ドレシエビッチせんしゅの背番号だよ！



Cにはいる数字は、
せんとうせんしゅの 背番号だよ！





①きいろ、あお、みどりのペンが、それぞれ なん本 あるでしょうか。

●
●
●

きいろ

●
●
●
●
●

あお

●
●

みどり

②AとBのペンはどちらが、なんマス分 ながいでしょうか。しきをかいて、こたえをもとめましょう。

しき

$$6-3=3$$

こたえ

Bの方が3マス分ながい