



個別指導塾フォルテ

×



さんすう

1ねんせい

だい10せつ

どちらがながい



ながさをくらべられるようになろう!

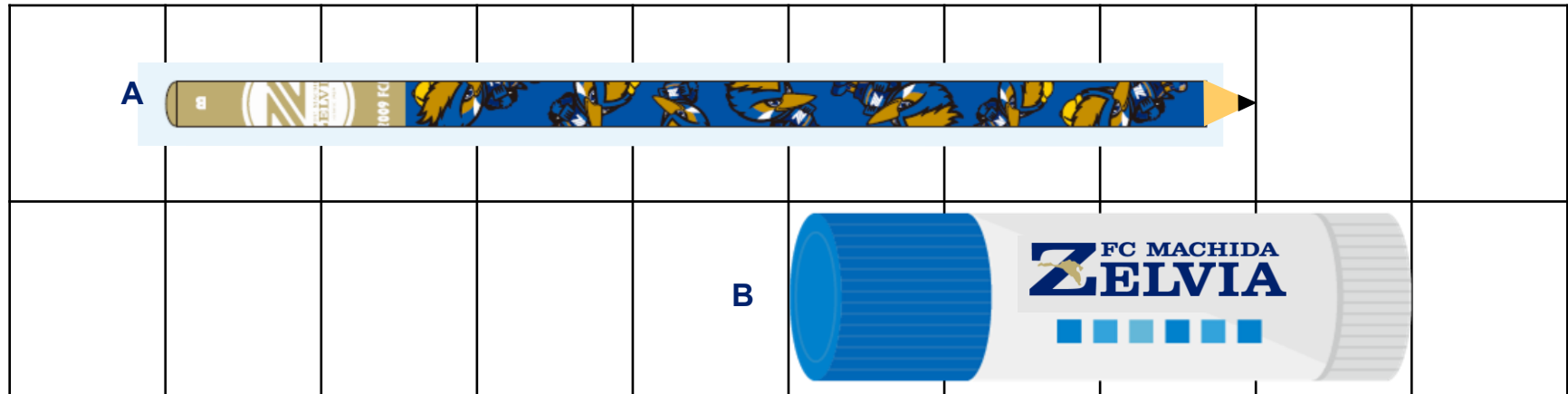
A、Bの どちらが ながいでしょうか。

下の をうめながら、かんがえてみましょう。

①Aのながさは マスぶん です。

②Bのながさは マスぶん です。

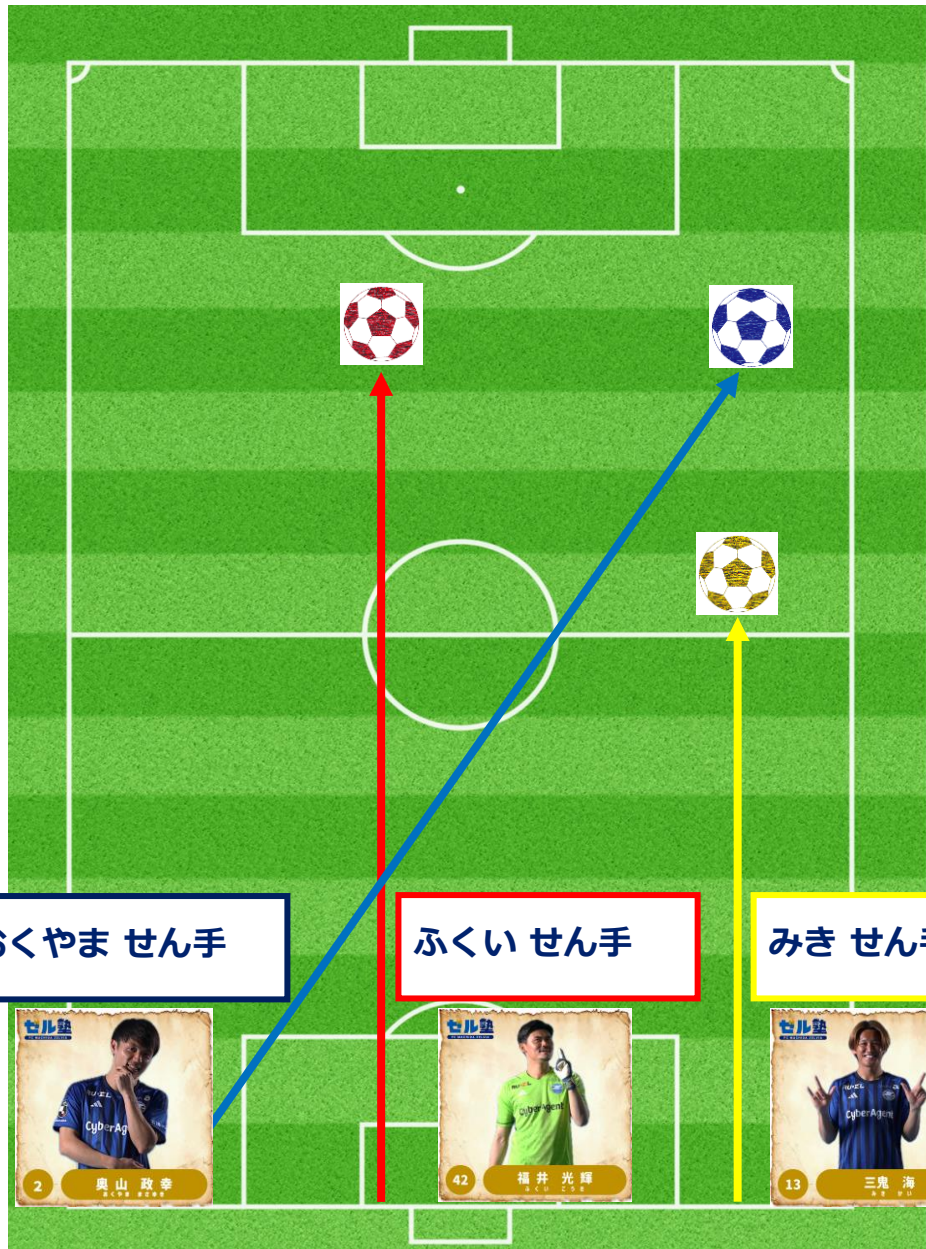
③だから、 のほうが ながいです。



ながさを くらべるときは、
なんマスぶんかを かぞえればいいね！

こたえ

① 7 ② 4 ③ A



ボールを とばしたながさが ながいじゆんに
せん手の なまえを こたえましょう。

1ばん

せん手

2ばん

せん手

3ばん

せん手

はじめをそろえても、
ながさをくらべることができるね！



【コラム】どちらがながい？

右の ふたつの ずを みてみよう！

上のずの 赤いせん と 下のずの 青いせん

ながさをくらべられるようになろう！な？

じつは、この2つのせんは おなじ ながさなんだ。

「さくし」と いわれるもので、

じっさいとは ちがうように 見えることなんだ。

ちなみに、こんかい しょうかいした 「さくし」は、「ミユラーリヤーさくし」と いわれるものだよ。

きょうみを もった子は ほかにも どんなさくしがあるのか しらべてみよう！







ながさを しらべましょう。
①A、B、C、Dのながさは それぞれ なんマスぶん ですか？

A		B		C		D	
---	--	---	--	---	--	---	--

②Aと Bでは、 どちらが なんマスぶん ながいですか。(しきもかんがえてみよう！)

しき		こたえ	
----	--	-----	--

A		D	
B			
C			



個別指導塾フォルテ

×



さんすう

こたえあわせ

1ねんせい

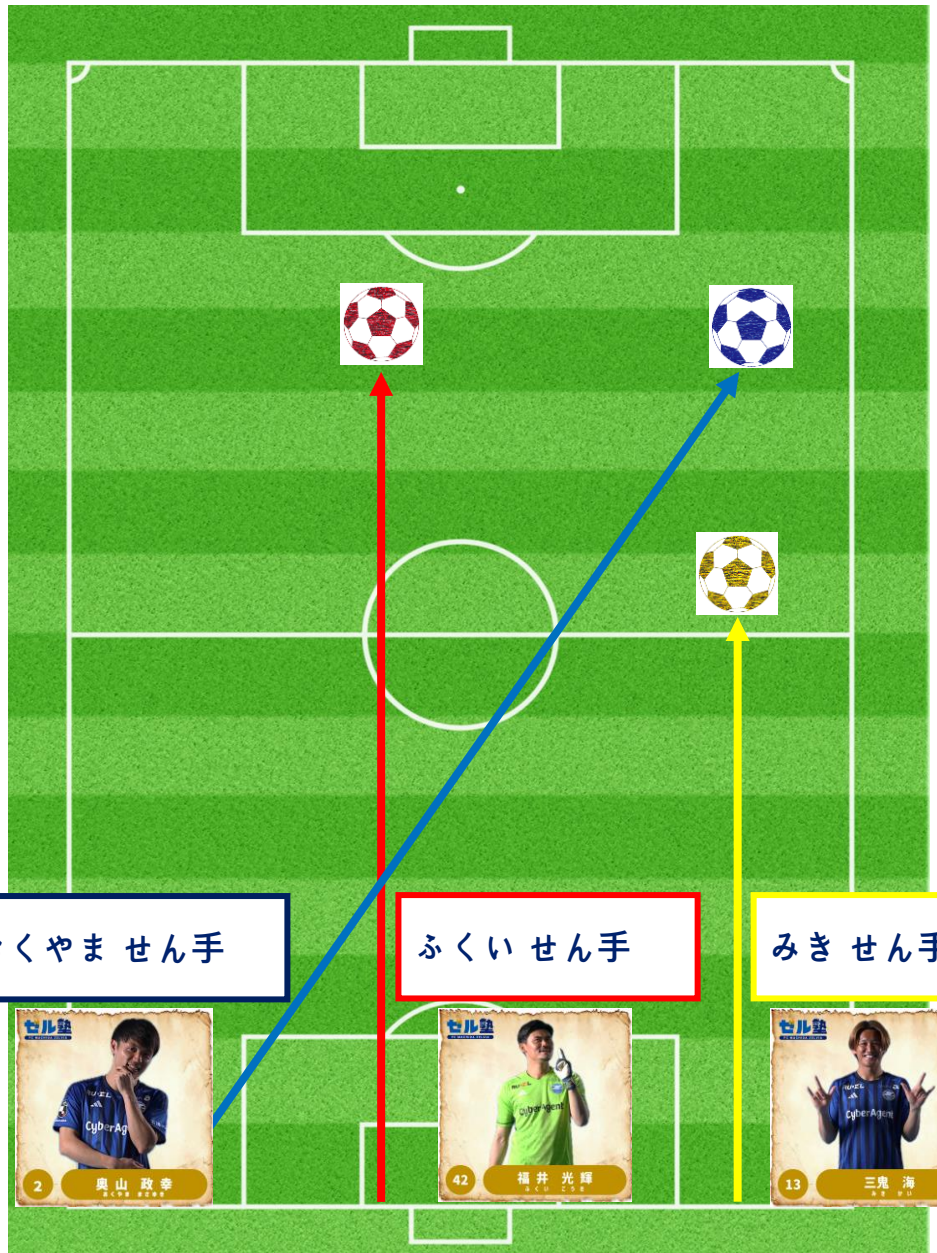
だい10せつ

どちらがながい



ながさをくらべられるようになろう!

1ねんせい | どちらがながい
だい10せつ <せんはんしゅうりょう>



ボールを とばしたながさが ながいじゆんに
せん手の なまえを こたえましょう。

1ばん



おくやま せん手

2ばん



ふくい せん手

3ばん



みき せん手

はじめをそろえても、
ながさをくらべることができるね！



ながさを しらべましょう。

①A、B、C、Dのながさは それぞれ なんマスぶん ですか？

A

6

B

4

C

5

D

3

②Aと Bでは、 どちらが なんマスぶん ながいですか。（しきもかんがえてみよう！）

しき

$6-4=2$


こたえ

2

A



B



C

