



個別指導塾フォルテ

×



さんすう

1ねんせい

だい19せつ

13～18せつまとめ
テスト



めざせ100点!

サッカーのしあいでは、ひとつのチームに 11人のせん手がいます。
そのうち1人は ゴールキーパーで、 のこりはみんな フィールドプレーヤーです。

青チームでは、 こうげきをしているときでも、 ボールをとられたときにそなえて、
3人のフィールドプレーヤーは こうげきにさんかしないことにしました。

青チームでは、 何人のせん手が こうげきに さんかしますか。

一つのしきを かいて こたえを もとめてみましょう。(15点)

しき

こたえ

ゴールキーパーは 1人だけしあいに することができますよ



7 + 5を じゅんばんに かんがえてみよう！

A 7は、あといくつで10になりますか。(5点)

(A) こたえ

B Aといくつをあわせたら、5になりますか。(5点)

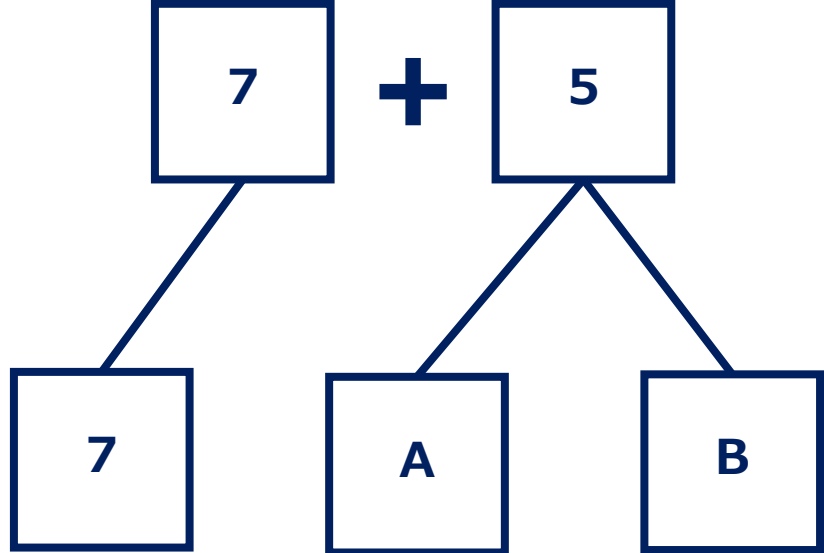
(B) こたえ

C 「7とAとBをあわせたもの」をあらわすしきをかき、こたえをもとめましょう。(10点)

しき

(C) こたえ

5はAとBをあわせたものなので、
7 + 5は「7とAとBをあわせたもの」です。



すずきせんしゅ、ふじおせんしゅ、ふじもとせんしゅが すいとうの 水を おなじコップに出したら、
たまたま じぶんの せばんごうと おなじ数のコップに うつしかえることが できました。

①すいとうの水が おおい じゅんに 答えましょう。(5点)

こたえ



②すずきせんしゅと ふじおせんしゅの すいとうの 水を
あわせると コップなんはい分に なりますか。(10点)

しき

こたえ



③ふじもとせんしゅと ふじおせんしゅの すいとうの 水を
くらべると どちらが コップなんはい分 おおいですか。(10点)

しき

こたえ



① 76は10のまとまりがいくつ、1がいくつ あつまった かずですか。(5点)

10のまとまり

1

② 23は 10のまとまりがいくつ、1がいくつ あつまった かずですか。(5点)

10のまとまり

1

③ $76 + 23$ の答えを もとめてみよう。(10点)

しき

こたえ

④ $76 - 23$ の答えを もとめてみよう。(10点)

しき

こたえ

①と②の もんだいを さんこうに
③と④の もんだいに ちょうせん
してみよう!



丸つけを して
点数を かこう!

点



個別指導塾フォルテ

×



さんすう

こたえあわせ

1ねんせい

だい19せつ

13～18せつまとめテスト



めざせ100点!

サッカーのしあいでは、ひとつのチームに 11人のせん手がいます。
そのうち1人は ゴールキーパーで、 のこりはみんな フィールドプレーヤーです。

青チームでは、 こうげきをしているときでも、 ボールをとられたときにそなえて、
3人のフィールドプレーヤーは こうげきにさんかしないことにしました。

青チームでは、 何人のせん手が こうげきに さんかしますか。

一つのしきを かいて こたえを もとめてみましょう。(15点)

しき

$$11-1-3=7$$

こたえ

7人

ゴールキーパーは 1人だけしあいに できるよ



7 + 5を じゅんばんに かんがえてみよう！

A 7は、あといくつで10になりますか。

(A) 答え **3**

B Aといくつをあわせたら、5になりますか。

(B) 答え **2**

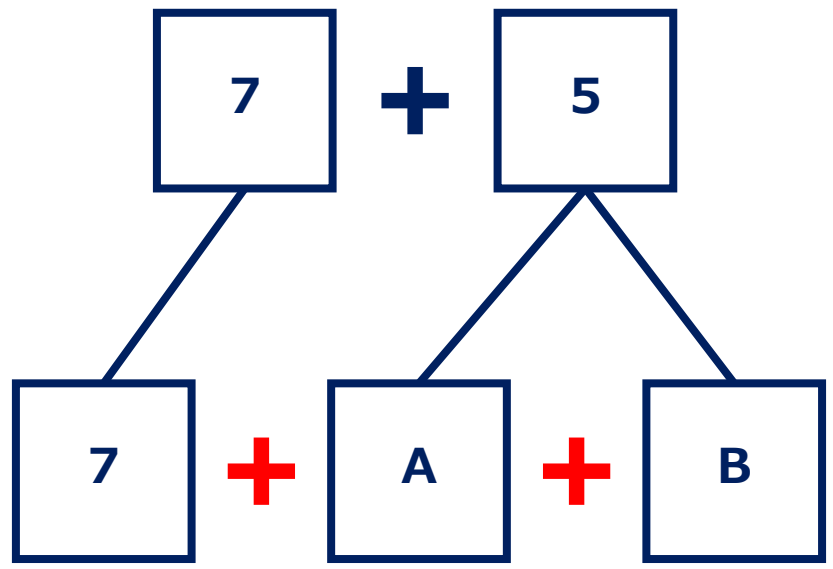
C 「7とAとBをあわせたもの」をあらわすしきをかき、
こたえをもとめましょう。

しき

$7+3+2=12$

(C) 答え **12**

5はAとBをあわせたものなので、
7 + 5は「7とAとBをあわせたもの」です。



すずきせんしゅ、ふじおせんしゅ、ふじもとせんしゅが すいとうの 水を おなじコップに出したら、
たまたま じぶんの せばんごうと おなじ数のコップに うつしかえることが できました。

①すいとうの水が おおい じゅんに 答えましょう。(5点)

こたえ

ふじもとせんしゅ・ふじおせんしゅ・すずきせんしゅ



②すずきせんしゅと ふじおせんしゅの すいとうの 水を
あわせると コップなんはい分に なりますか。(10点)

しき

6+9=15

こたえ

15はい分




③ふじもとせんしゅと ふじおせんしゅの すいとうの 水を
くらべると どちらが コップなんはい分 おおいですか。(10点)

しき

22-9=13

こたえ

ふじもとせんしゅが
13はい分おおい



① 76は 10のまとまりがいくつ、 1がいくつ あつまった かずですか。

10のまとまり

7

1

6

② 23は 10のまとまりがいくつ、 1がいくつ あつまった かずですか。

10のまとまり

2

1

3

③ 76 + 23の答えを もとめてみよう。

しき

10のまとまり

: 7+2=9

1

: 6+3=9

こたえ

99

④ 76 - 23の答えを もとめてみよう。

しき

10のまとまり

: 7-2=5

1

: 6-3=3

こたえ

53

①と②の もんだいを さんこうに
③と④の もんだいに ちょうせん
してみよう!

