



個別指導塾フォルテ

×



さんすう

1ねんせい



だい13せつ

10よりおおきいかず



10よりおおきいかずをしろう

えんぴつが なん本 あるか こたえましょう。



10と3で
「じゅうさん」と言うよ!

13本

①



②

A~Dに あてはまる すう字を こたえましょう

A

10

12

13

14

16

17



B



C

19

20


21

23

24

25

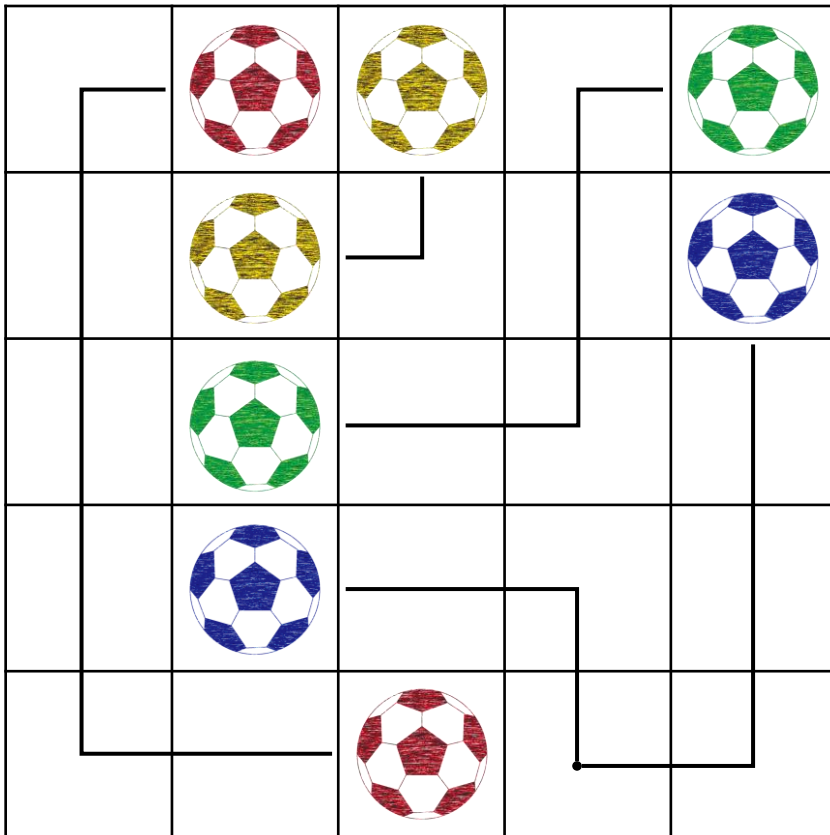
D



れい

ルールをまもってボールをせんでつないでみよう！

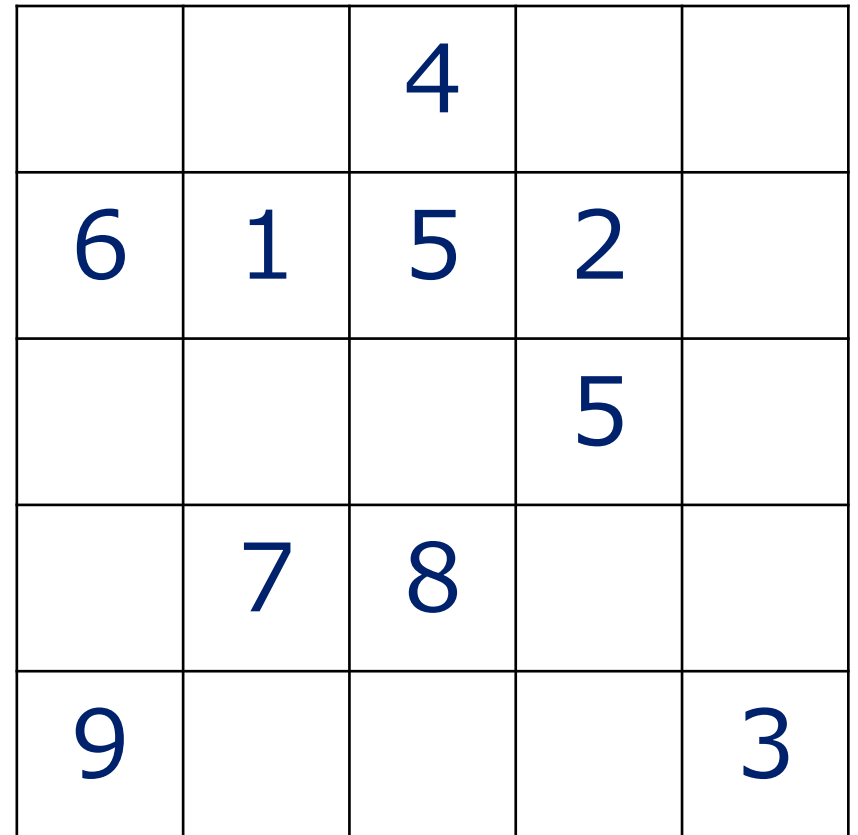
- ①おなじ いろの サッカーボールを つなぐ
- ②おなじ マスを 2かい とおらない
- ③すべての マスを とおる



もんだい

ルールをまもって「すう字」をせんでつないでみよう！

- ①つないだ すう字の ごうけいを 10にする
- ②おなじ マスを 2かい とおらない
- ③すべての マスを とおる



えをみて、もんだいに こたえましょう

①いちばん 大きい かずは いくつですか

こたえ

②いちばん 小さい かずは いくつですか

こたえ

③22より 4大きい かずは いくつですか。

こたえ

④27より 5小さい かずは いくつですか

こたえ

14
JANG

26
KOTARO

22
FUJIMOTO

28
YAMAGUCHI

9
FUJIO

21 22 23 24 25 26 27 28 29 30 31 32 33



つぎの 計算を やってみよう！

① $10 + 5$

② $10 + 8$

③ $14 - 4$

④ $17 - 7$

⑤ $12 + 2$

⑥ $11 + 8$

⑦ $15 - 3$

⑧ $19 - 6$



けいさんは サッカーの “きそれんしゅう” といっしょ！
まい日 コツコツ がんばろう



個別指導塾フォルテ

×



さんすう

こたえあわせ

1ねんせい

だい13せつ

10よりおおきいかず



10よりおおきいかずをしろう

A~Dに あてはまる すう字を こたえましょう

A

10

11

12

13

14

15

16

17



B



C

18

19

20

21

22

23

24

25



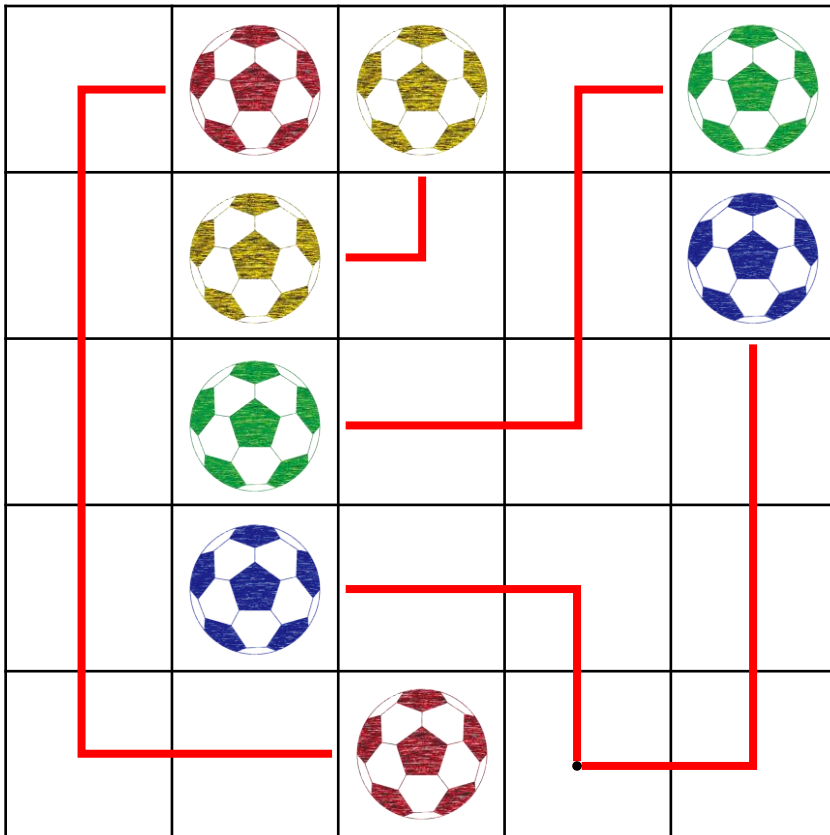
D



れい

ルールをまもってボールをせんでつないでみよう！

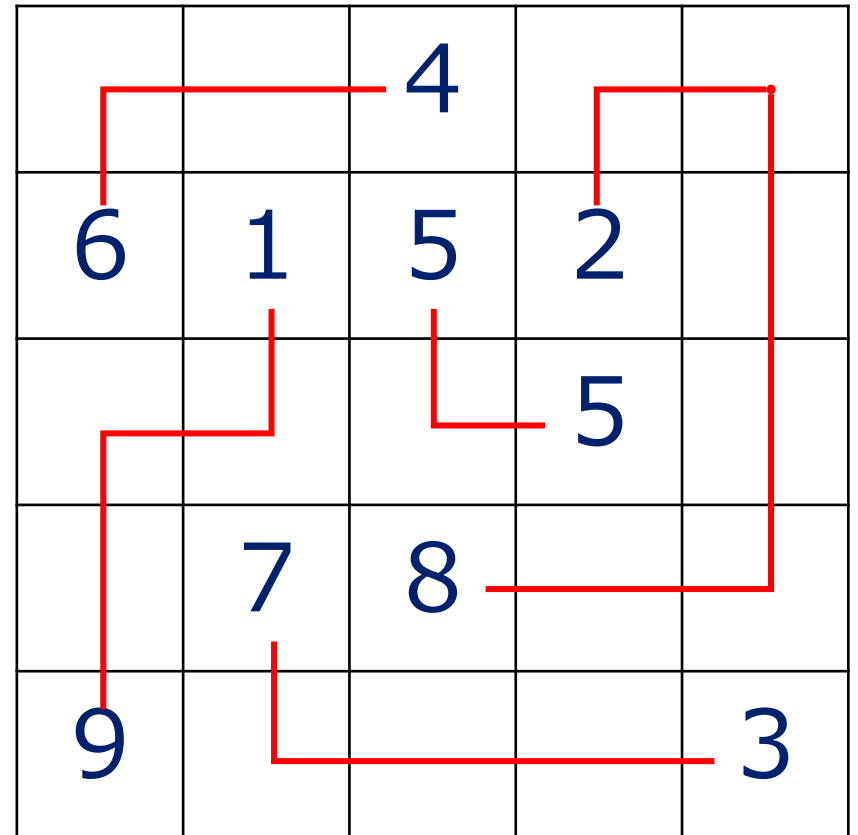
- ①おなじ いろの サッカーボールを つなぐ
- ②おなじ マスを 2かい とおらない
- ③すべての マスを とおる



もんだい

ルールをまもって「すう字」をせんでつないでみよう！

- ①つないだ すう字の ごうけいを 10にする
- ②おなじ マスを 2かい とおらない
- ③すべての マスを とおる



えをみて、もんだいに こたえましょう

①いちばん 大きい かずは いくつですか

こたえ 28

②いちばん 小さい かずは いくつですか

こたえ 9

③22より 4大きい かずは いくつですか。

こたえ 26

④27より 5小さい かずは いくつですか

こたえ 22

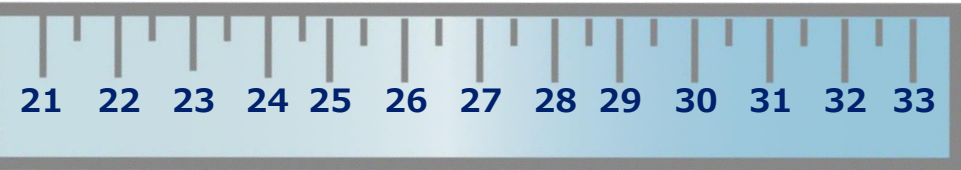
14
JANG

26
KOTARO

22
FUJIMOTO

28
YAMAGUCHI

9
FUJIO



つぎの けいさんを やってみよう！

① $10 + 5$

15

② $10 + 8$

18

③ $14 - 4$

10

④ $17 - 7$

10

⑤ $12 + 2$

14

⑥ $11 + 8$

19

⑦ $15 - 3$

12

⑧ $19 - 6$

13



けいさんは サッカーの “きそれんしゅう” といっしょ！
まい日 コツコツ がんばろう