



個別指導塾フォルテ

×



算数

2年生

だい10せつ

3けたの数



100より大きい数のしくみを学ぼう!

① どちらの数が大きいですか。

(1)

百の位	十の位	一の位
1	7	3
2	7	3

(2)

百の位	十の位	一の位
3	4	5
3	3	8

答え

(1)

(2)

② □に、あてはまる、>、<のしるしを書きましょう。

(1)

123

143

(2)

747

699

ある位にちゅう目すると、数の大きさをくらべやすくなるよ！

数の大小は>、<をつかってあらわすよ。

たとえば、5より7の方が大きいから

5 < 7 または 7 > 5 と書けるよ！



1 FC町田ゼルビアは赤のゼッケンを60まい、青のゼッケンを70まいもっています。
合わせて何まいもっているでしょう。

しき

答え



2 ゼルビーは500円もっています。340円のノートを買いました。
おつりはいくらになるでしょう。

しき

答え

たし算とひき算、
どちらをつかえば
うまくいくかな？




【コラム】 下のように10まいのコインがならべられています。
コインをうごかして、ぎゃくのピラミッドをつくってみましょう。



②は角のコインをうごかしてみよう！


① 6まい うごかして、上下ぎやくのピラミッドをつくりましょう。



② 3まい うごかして、上下ぎやくのピラミッドをつくりましょう。



ゼルビーはケーキを買いに行きました。
ショートケーキが420円、チョコケーキが340円、チーズケーキが260円でした。



①ショートケーキとチョコケーキを1つずつ買いました。合わせていくらでしょう。

しき

答え

②チョコケーキはショートケーキより、何円やすいでしょう。



しき

答え

③600円で買えるケーキはどれとどれでしょう。

しき

答え



個別指導塾フォルテ

×



算数

答え合わせ

2年生

だい10せつ

3けたの数

① どちらの数が大きいですか。

(1)

百の位	十の位	一の位
1	7	3
2	7	3

(2)

百の位	十の位	一の位
3	4	5
3	3	8

答え

(1)

273


(2)

345

② □に、あてはまる、>、<のしるしを書きましょう。

(1)


123



143

(2)

747



699

ある位にちゅう目すると、数の大きさをくらべやすくなるよ！

かずの大小は>、<をつかってあらわすよ。

たとえば、5より7の方が大きいから

5 < 7 または 7 > 5 と書けるよ！



①FC町田ゼルビアは赤のゼッケンを60まい、青のゼッケンを70まいもっています。
合わせて何まいもっているでしょう。

しき

$$60 + 70 = 130$$

答え

130まい



②ゼルビーは500円もっています。340円のノートを買いました。
おつりはいくらになるでしょう。

しき

$$500 - 340 = 160$$

答え

160円



たし算とひき算、
どちらをつかえば
うまくいかな?

33

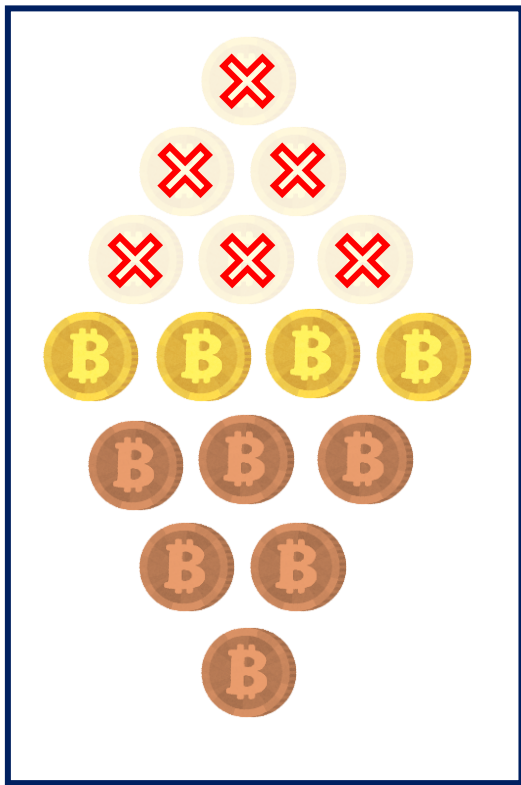
望月 ヘンリー 海輝
もちつき へんりー みるき

【コラム】 下のように10まいのコインがならべられています。
コインをうごかして、ぎゃくのピラミッドをつくってみましょう。




②は角のコインをうごかしてみよう！


① 6まいうごかして、上下ぎゃくのピラミッドをつくりましょう。



② 3まいうごかして、上下ぎゃくのピラミッドをつくりましょう。



ゼルビーはケーキを買いに行きました。
ショートケーキが420円、チョコケーキが340円、チーズケーキが260円でした。



①ショートケーキとチョコケーキを1つずつ買いました。合わせていくらでしょう。

しき

$$420 + 340 = 760$$

答え

760円

②チョコケーキはショートケーキより、何円やすいでしょう。



しき

$$420 - 340 = 80$$

答え

80円

③600円で買えるケーキはどれとどれでしょう。

しき

$$340 + 260 = 600$$

答え

チョコケーキとチーズケーキ