



個別指導塾フォルテ

×



算数

2年生

だい11せつ

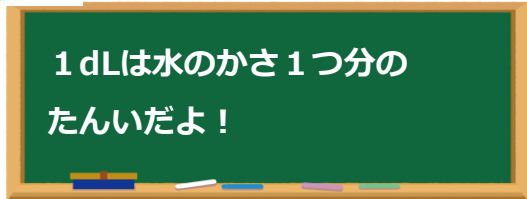
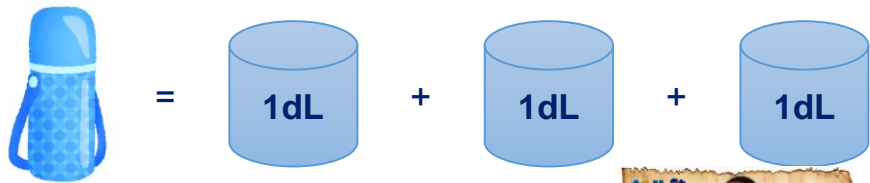
水のかさ



かさのたんいL,dL,mLについて知ろう！

1

デュークせん手が水とうをもっています。
水のかさは何dLですか。



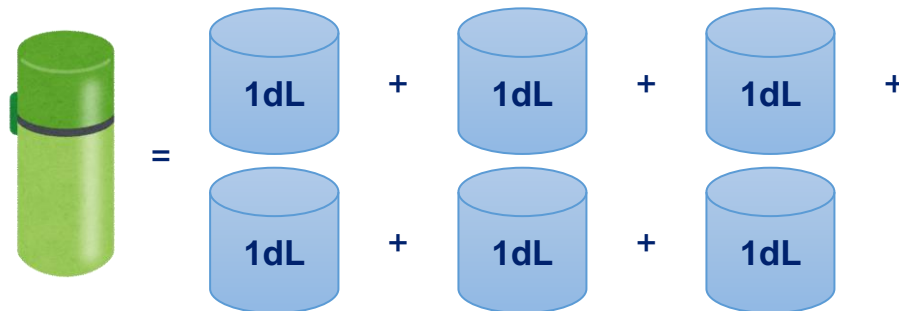
しき

答え

dL

2

つぎの日、べつの水とうをもってきました。
この時、水のかさは何dLですか。



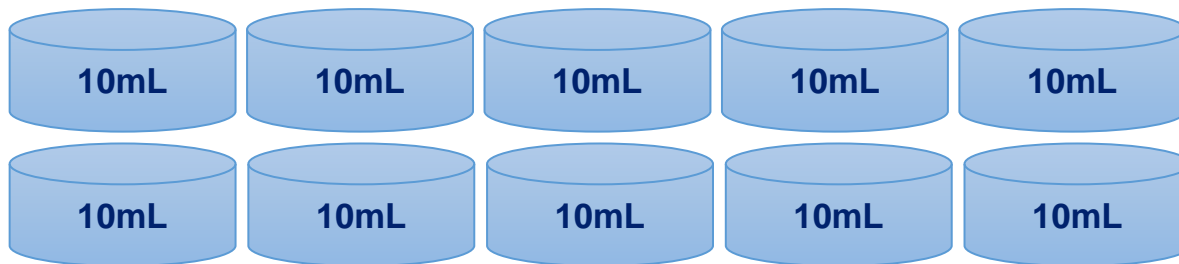
しき

答え

dL

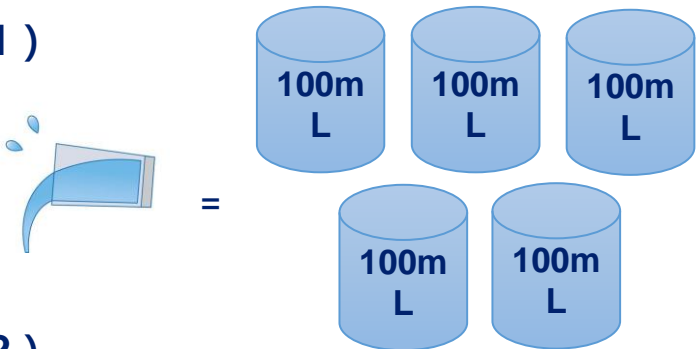


1 dL=100mL だよ!



ゼルビーくんが水をこぼしてしまいました。こぼした水のかさは何dLですか？

(1)



しき

答え

dL

(2)



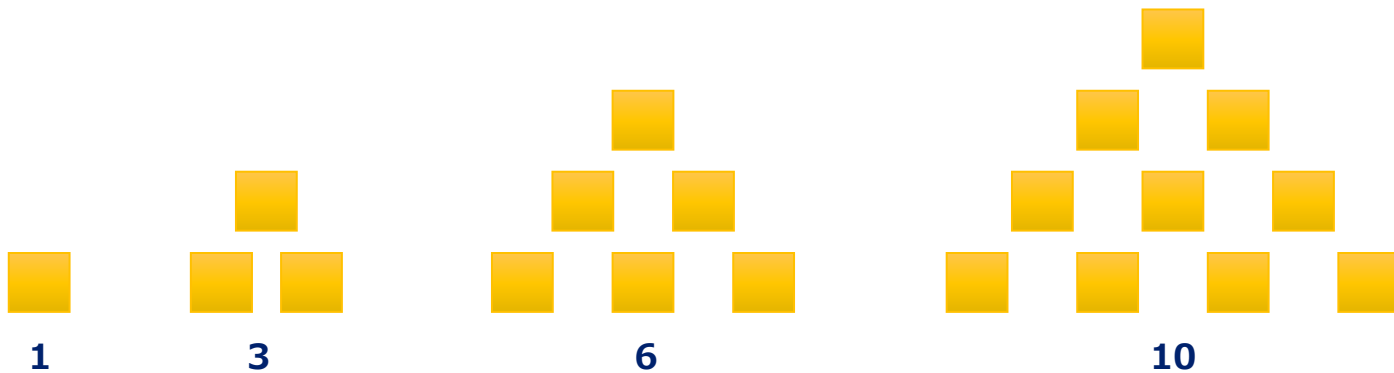
しき

答え

dL

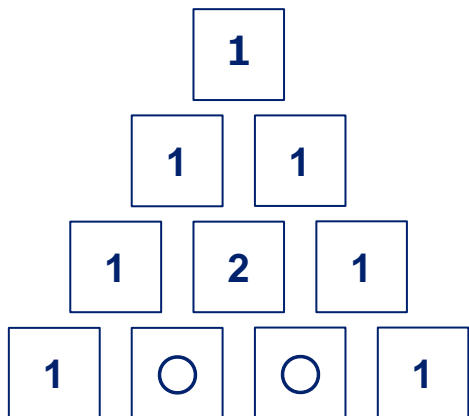
①○に合う数を考えましょう。

1 · 3 · 6 · 10 · 15 · ○ · 28 · 36...



答え

②○に合う数を考えましょう。

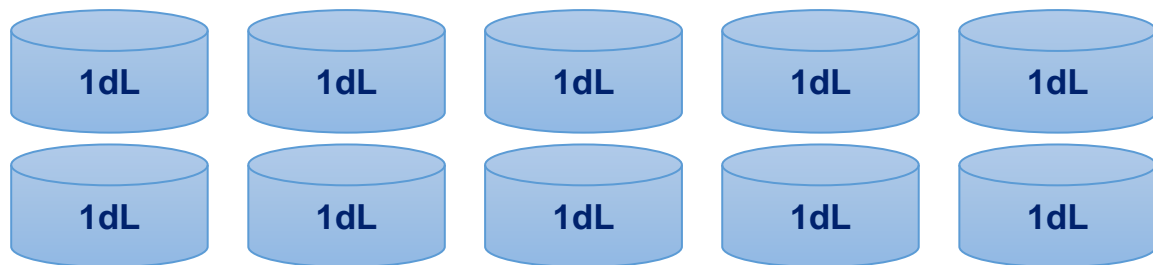


答え



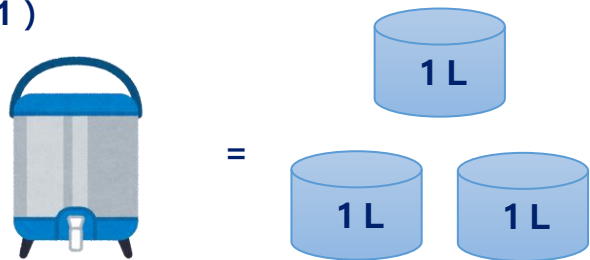


1 L = 10 dL だよ!



ゼルビーくんが大きな水とうをもってきていきます。水のかさはそれぞれいくつですか?

(1)

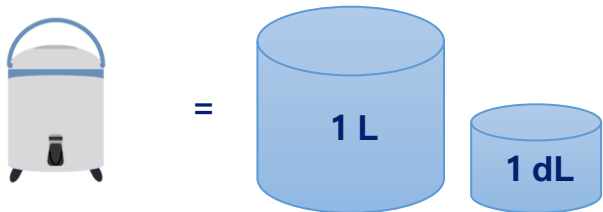


しき

答え

L

(2)



しき

答え

dL



個別指導塾フォルテ

×



算数

答え合わせ

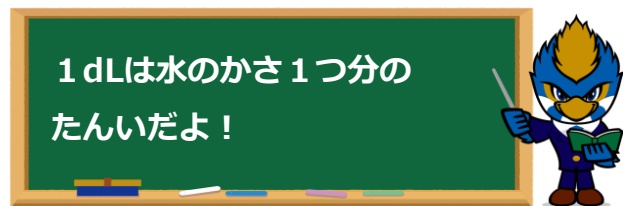
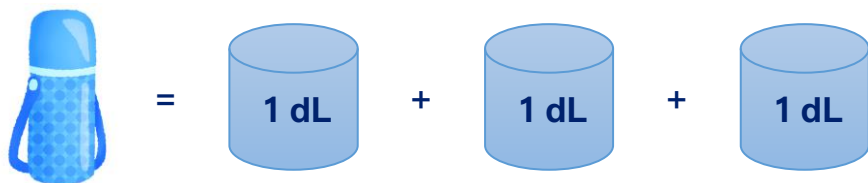
2年生

だい11せつ

水のかさ

1

デュークせん手が水とうをもっています。
水のかさは何dLですか。



しき

$$1 + 1 + 1 = 3$$

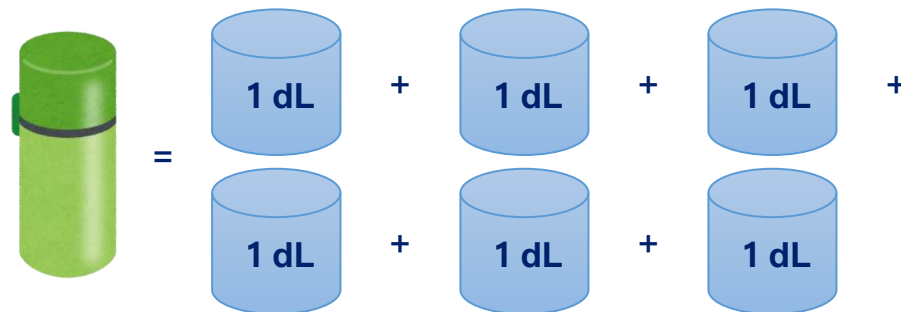
答え

3

dL

2

つぎの日、べつの水とうをもってきました。
この時、水のかさは何dLですか。



しき

$$1 + 1 + 1 + 1 + 1 + 1 = 6$$

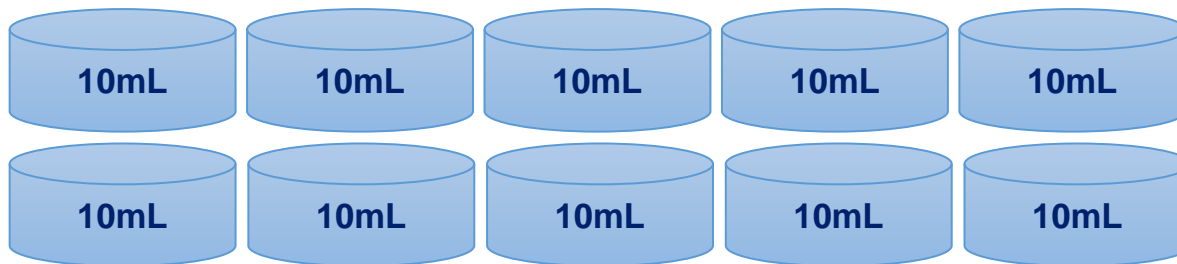
答え

6

dL

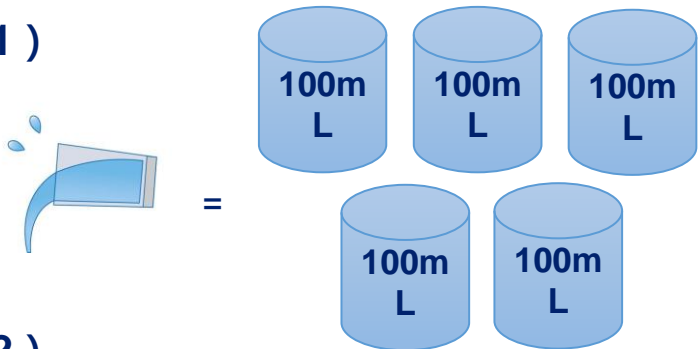


1 dL=100mL だよ！



ゼルビーくんが水をこぼしてしまいました。こぼした水のかさは何dLですか？

(1)



しき

$$100\text{mL}=1\text{dL}$$
$$1+1+1+1+1=5$$

答え

5

dL

(2)



しき

$$100\text{mL}=1\text{dL}$$
$$1+1+1=3$$

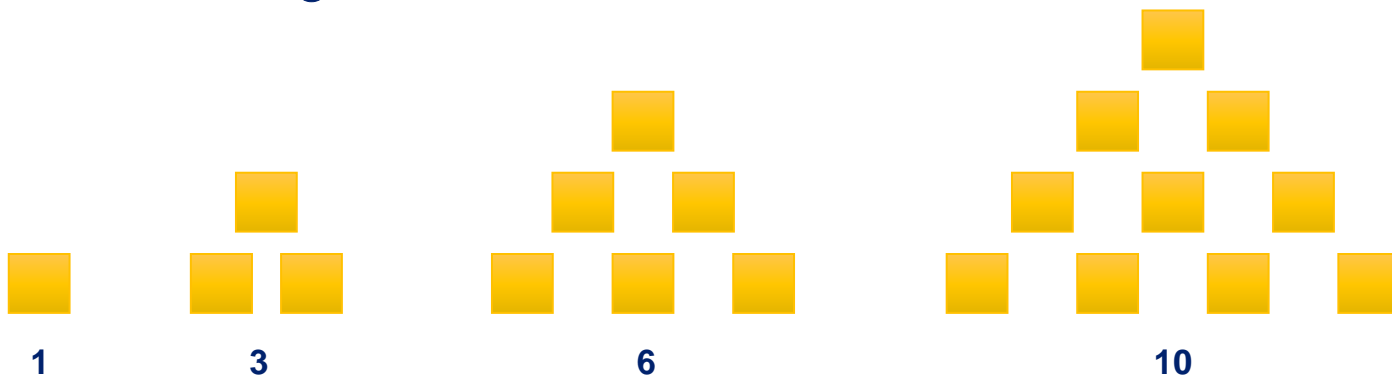
答え

3

dL

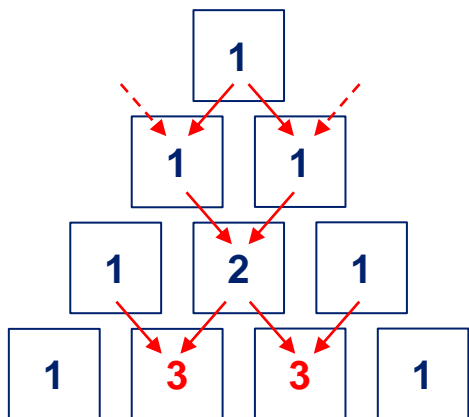
①○に合う数を考えましょう。

1 · 3 · 6 · 10 · 15 · ○ · 28 · 36...



答え
21

②○に合う数を考えましょう。



答え
3

【①かいせつ】

右に進むにつれて、いくつふえているかな？

ふえた数を **黄色**でかくと 1、1+2=3、3+3=6、6+4=10、10+5=15 15+6=21 **なので、○には21が入るよ**

【②かいせつ】

上の数を2つ、たした数になっているよ。

1、2だん目 1

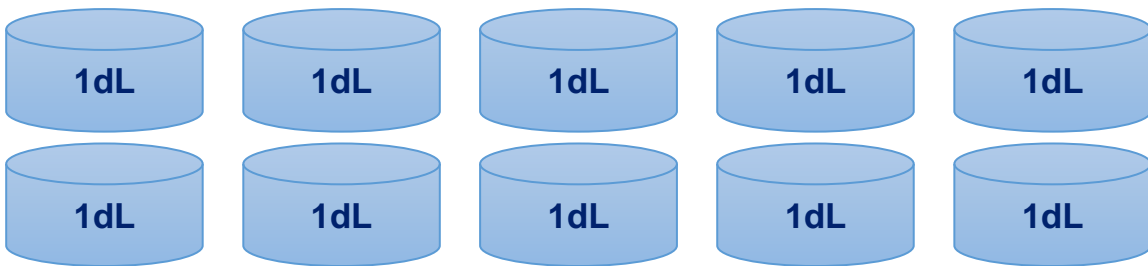
3だん目 1 + 1 = 2

4だん目 1 + 2 = 3 **なので、○には3が入るよ**





1 L = 10 dL だよ!

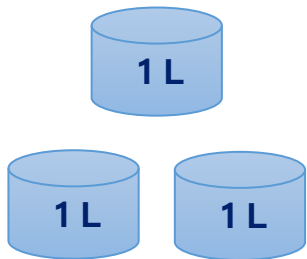


ゼルビーくんが大きな水とうをもってきていきます。水のかさはそれぞれいくつですか？

(1)



=



しき

$$1 + 1 + 1 = 3$$

答え

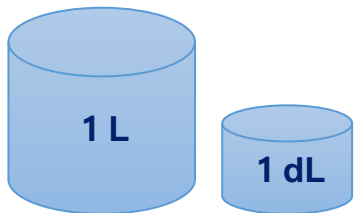
3

L

(2)



=



しき

$$10 + 1 = 11$$

答え

11

dL