



個別指導塾フォルテ

×



算数

2年生

だい12せつ

6~11せつのまとめテスト



めざせ100点!!

赤、青、オレンジ、みどり色の小さいボールがたくさんころがっています。



(1) ボールのこすうを○をつかって、右のグラフにあらわしましょう。(10点)

(2) グラフの人数を、下のひょうにまとめましょう。(10点)

色	赤	青	オレンジ	みどり
こすう				

(3) 赤色のボールと青色のボールでは、どちらが何こ多いですか。(5点)

答え

(4) [] の中のあっているほうに○をつけましょう。(5点)

人数の多いか少ないかわかりやすいのは [グラフ・ひょう] です。
人数がわかりやすいのは [グラフ・ひょう] です。

赤	青	オレンジ	みどり
---	---	------	-----

① 次の計算をしましょう。(それぞれ5点)

(1)

	1	4
+	2	3



(2)

	3	6
+	1	5

② FC町田ゼルビアのし合を子どもたちが見ています。
女の子が12人、男の子が30人います。合わせて何人いますか。(5点)

しき

答え



① 次の計算をしましょう。(それぞれ5点)

(1)

	3	5
-	1	1



(2)

	2	1
-	1	8

② ゼルビーチョコを32こ、ゼルビークッキーを18こ買いました。
ゼルビーチョコはゼルビークッキーよりいくつ多いですか。(5点)



42

福井 光輝
みくい こうき

何算をつかえばいいのかな？

しき

答え

① ゼルビアけしゴムの長さをしらべましょう。(5点)



答え

cm

mm

② たんいを書きかえましょう。(それぞれ5点)

(1) $2\text{m}13\text{cm} =$ _____ cm

(2) $1\text{m}10\text{cm} =$ _____ mm



上のじょうぎは
1メモリ 1 mmだよ。
1 cmは何mm、
1 mは何cmだったかな？

高橋選手は、赤いボールを150こ、青いボールを210こ、白いボールを320こもっています。

① 白いボールは赤いボールよりいくつ多いですか。(5点)

しき

答え

② ぜんぶ合わせていくつありますか。(5点)

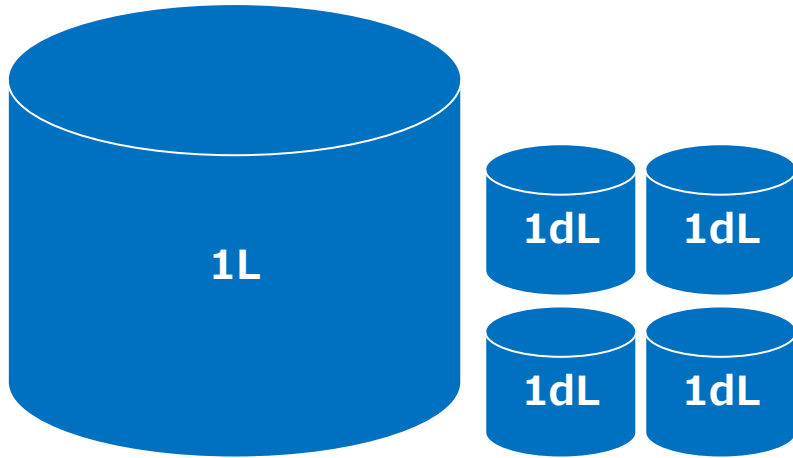
しき

答え

おぼえているかな？



①水のかさは何dLですか。(5点)



答え

dL

②たんいを書きかえましょう。(それぞれ5点)

(1) $2L =$ _____ $dL =$ _____ mL

(2) $4000mL =$ _____ $dL =$ _____ L

丸つけを して
すべてのごうけい
点数を かこう!

てん



個別指導塾フォルテ

×



算数


答え合わせ

2年生

だい12せつ

6~11せつのまとめテスト

赤、青、オレンジ、みどり色の小さいボールがたくさんころがっています。



(1)ボールのこすうを○をつかって、右のグラフにあらわしましょう。(10点)

(2)グラフの人数を、下のひょうにまとめましょう。(10点)

色	赤	青	オレンジ	みどり
こすう	10	5	9	3

(3)赤色のボールと青色のボールでは、どちらが何こ多いですか。(5点)

答え **赤色のボールが5こ多い**

(4) [] の中のあっているほうに○をつけましょう。(5点)

人数の多いか少ないかわかりやすいのは **グラフ**・ひょう] です。
人数がわかりやすいのは [**グラフ**・**ひょう**] です。

<input type="radio"/>			
<input type="radio"/>		<input type="radio"/>	
<input type="radio"/>		<input type="radio"/>	
<input type="radio"/>		<input type="radio"/>	
<input type="radio"/>	<input type="radio"/>	<input type="radio"/>	
<input type="radio"/>	<input type="radio"/>	<input type="radio"/>	
<input type="radio"/>	<input type="radio"/>	<input type="radio"/>	<input type="radio"/>
<input type="radio"/>	<input type="radio"/>	<input type="radio"/>	<input type="radio"/>
<input type="radio"/>	<input type="radio"/>	<input type="radio"/>	<input type="radio"/>
赤	青	オレンジ	みどり

① 次の計算をしましょう。(それぞれ5点)

(1)

	1	4
+	2	3
	3	7



(2)

	3	6
+	1	5
	5	1

② FC町田ゼルビアの試合を子どもたちが見ています。
女の子が12人、男の子が30人います。合わせて何人いますか。(5点)

しき

$$12+30=42$$

答え

42人



① 次の計算をしましょう。(それぞれ5点)

(1)

	3	5
-	1	1
	2	4



(2)

	2	1
-	1	8
		3

② ゼルビーチョコを32こ、ゼルビークッキーを18こ買いました。
ゼルビーチョコはゼルビークッキーよりいくつ多いですか。(5点)



しき

$$32 - 18 = 14$$

何算をつかえばいいのかな？

答え

14こ

① ゼルビアけしゴムの長さをしらべましょう。(5点)



答え

3 cm

1 mm

② たんいを書きかえましょう。(それぞれ5点)

(1) $2\text{m}13\text{cm} = \underline{\hspace{2cm} \mathbf{213} \text{cm} \hspace{2cm}}$

(2) $1\text{m}10\text{cm} = \underline{\hspace{2cm} \mathbf{1100} \text{mm} \hspace{2cm}}$



上のじょうぎは
1メモリ 1 mmだよ。
1 cmは何mm、
1 mは何cmだったかな？

高橋選手は、赤いボールを150こ、青いボールを210こ、白いボールを320こもっています。

① 白いボールは赤いボールよりいくつ多いですか。(5点)

しき

$$320 - 150 = 170$$

答え

170こ

② ぜんぶ合わせていくつありますか。(5点)

しき

$$150 + 210 + 320 = 680$$

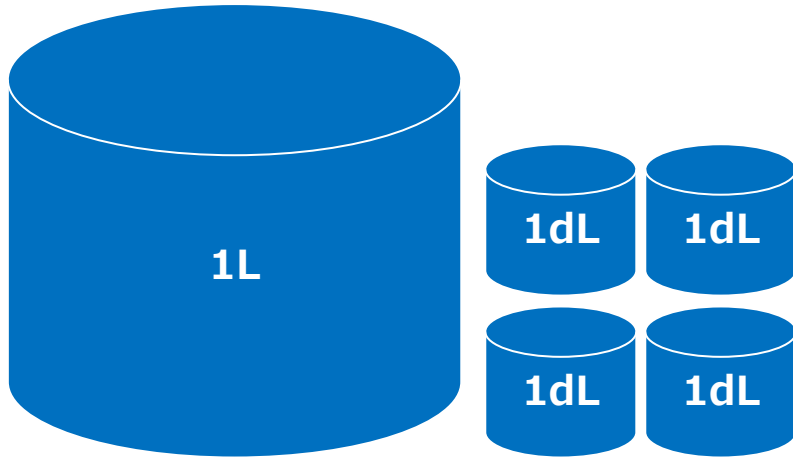
答え

680こ

おぼえているかな？



①水のかさは何dLですか。(5点)



答え

14 dL

②たんに書きかえましょう。(それぞれ5点)

(1) $2L = \underline{20} \text{ dL} = \underline{2000} \text{ mL}$

(2) $4000\text{mL} = \underline{40} \text{ dL} = \underline{4} \text{ L}$

丸つけを して
すべてのごうけい
点数を かこう!

てん