



個別指導塾フォルテ

×



算数

2年生

だい9せつ

長さ



長さのたんいm,cm,mmについて知ろう!

ゼルビーえんぴつの長さをしらべましょう。

【1】 えんぴつの長さを かきましょう



長さは1 cmが いくつあるかで
あらわすことができるよ！

じょうぎは1 cmごとに
数字が書いてあるよ！



答え

1cmが _____ こ分で _____ cm

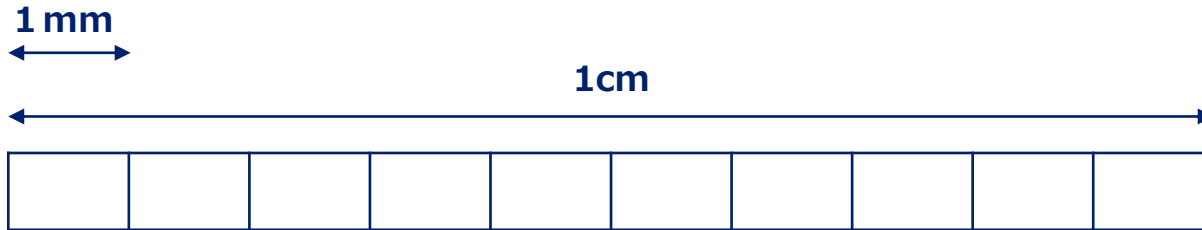
【2】 えんぴつの長さを かきましょう



答え

1cmが _____ こ分で _____ cm

mmはcmの十分の一の長さです。(1cm=10mm)



mmについて知ろう!

【1】ゼルビア消しゴムの長さをしらべましょう。



答え

_____ cm _____ mm

【2】 () のたんに書きなおしましょう。

① 4cm3mm ▶ (mm)

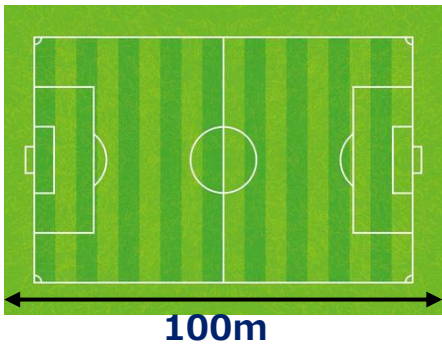
答え

② 50mm ▶ (cm)

答え

ちょっと休けい

【1】サッカーのグラウンドがよこ100mです。
1kmはグラウンド何こ分ですか。①～③の中からえらびましょう。



- ① 1こ
- ② 10こ
- ③ 100こ

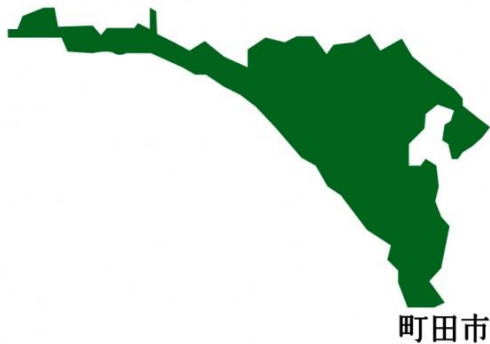


1000m = 1kmというよ。
(1キロメートルとよぶよ)

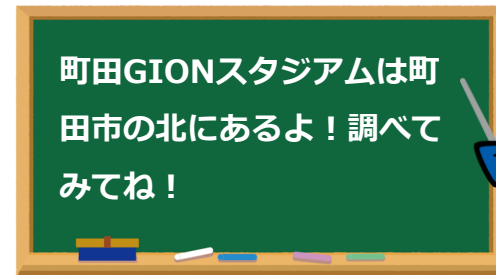
答え

【2】町田市の北のはじから南のはじまで何kmあるでしょうか？

①～③の中からえらびましょう。



- ① 1.3km
- ② 13km
- ③ 130km



町田GIONスタジアムは町田市の北にあるよ！調べてみてね！

答え

【1】長さを こたえのたんに書きなおしましょう。

① 5m こたえ cm

② 150cm こたえ m cm

③ 1m こたえ cm

こたえ mm

【2】オセフンせん手と デュークせん手のしん長をはかりました。
大きいのはどちらですか。

オセフンせん手
1m94cm



デュークせん手
1m86cm



【mについて知ろう！】

100cm=1mです。

1cmが100こ分あると、
1mになるよ。



答え



個別指導塾フォルテ

×



算数

答え合わせ

2年生

だい9せつ

長さ

ゼルビーえんぴつの長さをしらべましょう。

【1】 えんぴつの長さを かきましょう



長さは1 cmが いくつあるかで
あらわすことができるよ！

じょうぎは1 cmごとに
数字が書いてあるよ！



答え

1cmが 5 こ分で 5 cm

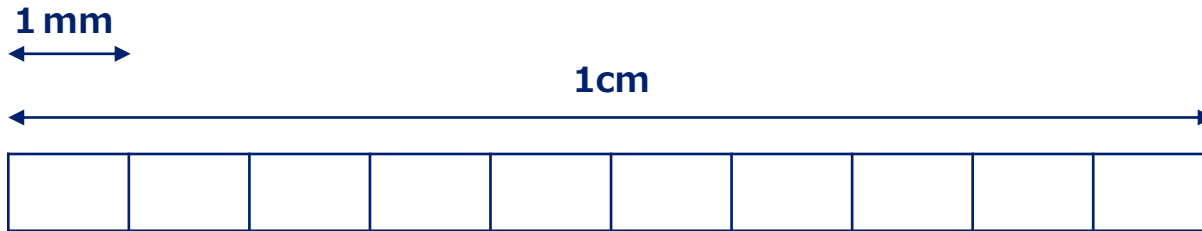
【2】 えんぴつの長さを かきましょう



答え

1cmが 8 こ分で 8 cm

mmはcmの十分の一の長さです。(1cm=10mm)



mmについて知ろう!

【1】ゼルビア消しゴムの長さをしらべましょう。



答え

3 cm 5 mm

【2】 () のたんに書きなおしましょう。

① 4cm3mm ▶ (mm)

答え

43mm

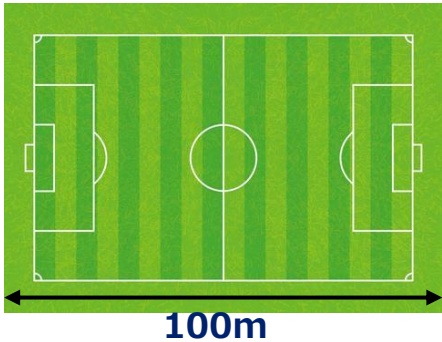
② 50mm ▶ (cm)

答え

5cm

ちょっと休けい

【1】 サッカーのグラウンドがよこ100mです。
1kmはグラウンド何こ分ですか。①～③の中からえらびましょう。



- ① 1こ
- ② 10こ
- ③ 100こ



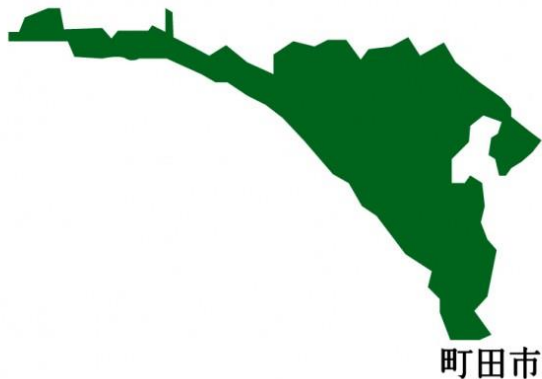
1000m = 1km というよ。
(1キロメートルとよぶよ)

答え

②

【2】 町田市の北のはじから 南のはじまで 何kmあるでしょうか？

①～③の中からえらびましょう。



- ① 1.3km
- ② 13km
- ③ 130km

町田GIONスタジアムは町田市の北にあるよ！調べてみてね！



答え

②

【1】長さを こたえのたんに書きなおしましょう。

① 5m こたえ **500**cm

② 150cm こたえ **1**m **50**cm

③ 1m こたえ **100**cm

こたえ **1000**mm

【2】オセフンせん手と デュークせん手のしん長をはかりました。
大きいのはどちらですか。

オセフンせん手
1m94cm



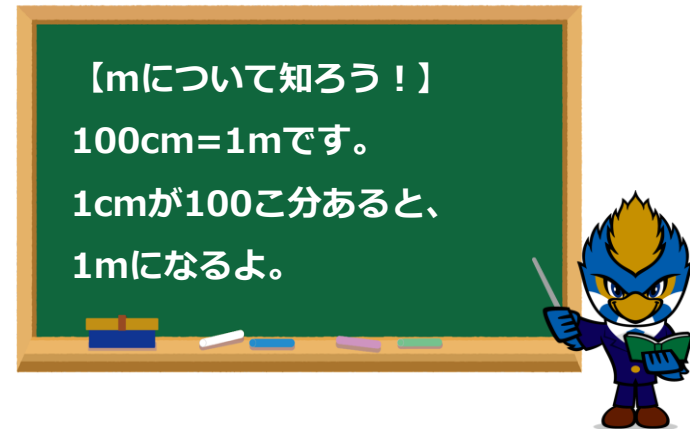
デュークせん手
1m86cm



【mについて知ろう！】

100cm=1mです。

1cmが100こ分あると、
1mになるよ。



答え

オセフンせん手